

415 max 57

Четверткова Евгения Андреевна
10 класс (9 уч. год)

Всероссийская олимпиада школьников по географии.

Школьный этап. 10-11 класс. 2016-17 учебный год

(Задания выполняются без использования атласов, справочников, словарей и др.)

Задание № 1. Тестовый этап (за правильный ответ 1 балл)

1. На границе какого государства и региона России находится крайняя южная точка страны:
 - 1) Грузия – Республика Карачаево-Черкесия; 3) Монголия – Республика Тува; 05
 - 2) Азербайджан – Республика Дагестан; 4) Северная Корея – Приморский край;
2. Отметьте религию, которой придерживаются народы финно-угорской группы:
 - 1) буддизм; 2) иудаизм; 3) ислам; 4) православие. 15
3. Для окружающей природы наиболее опасны предприятия:
 - 1) легкой промышленности; 3) автомобилестроения; 15
 - 2) цветной металлургии; 4) пищевой промышленности.
4. Мировой «полюс холода» находится:
 - 1) Оймякон 2) южный полюс 3) станция Восток 4) северный полюс 05
5. Укажите ошибку в перечне главных грузопотоков газа:
 - 1) Россия – Европа; 2) Алжир – Западная Европа; 3) ЮАР – Япония; 4) Канада – США. 15
6. Какой регион России в наибольшей степени пострадал от аварии на Чернобыльской АЭС:
 - 1) Брянская область; 2) Воронежская; 3) Смоленская область; 4) Орловская область 15
7. Материк, на котором отсутствует область новой складчатости:
 - 1) Антарктида 2) Африка 3) Южная Америка 4) Австралия 05
8. Выделите страну с самой высокой долей городского населения среди перечисленных:
 - 1) Великобритания; 2) Китай; 3) Россия; 4) Испания. 05
9. Самая плотно населенная аграрная страна в мире – это:
 - 1) Бельгия; 2) Нидерланды; 3) Бангладеш; 4) Япония. 15
10. В каком регионе России наиболее остро стоит проблема водоснабжения:
 - 1) Московская обл.; 2) Средний и Южный Урал; 3) Красноярский край; 4) Архангельская обл. 05
11. Какое из предложенных названий природной зоны в данном списке лишнее:
 - 1) саванна 2) прерия 3) сельва 4) степь 15
12. Вспомните экономический район, в котором больше всего республик в составе РФ, и найдите единственную страну, с которой он граничит:
 - 1) Китай; 2) Монголия; 3) Казахстан; 4) Грузия. 05
13. Укажите ошибку в составе «Большой семерки»:
 - 1) США; 2) Япония; 3) Испания; 4) Великобритания; 5) Германия; 6) Франция; 7) Италия; 8) Канада. 15
14. Если 4 см на карте соответствуют расстоянию на местности, равному 2 км, то численный масштаб этой карты:

$200000 \div 4 = 50000$

 - 1) 1:5000 2) 1:5000000 3) 1:500000 4) 1:50000 15
15. Выберите вариант ответа, в котором представлены две страны, одновременно входящие в число семи самых крупных по территории и десяти самых крупных по численности населения:
 - 1) Китай и Индонезия; 2) Австралия и Бангладеш; 3) Бразилия и Нигерия; 4) Китай и Бразилия. 15
16. Найдите единственную страну, в которой минимальны предпосылки для межрелигиозных или межэтнических конфликтов:
 - 1) Великобритания; 2) Индия; 3) Япония; 4) Канада. 15
17. Какая электростанция из предложенного списка имеет самую большую мощность и не использует минеральное топливо:
 - 1) Курская; 2) Саяно-Шушенская; 3) Костромская; 4) Билибинская. 15
18. Какая страна производит дешевую электроэнергию, экспортирует нефть и газ:
 - 1) США; 2) Германия; 3) Норвегия; 4) Бразилия? 15
19. Выберите пару городов – центров автомобилестроения:
 - 1) Манчестер, Глазго; 2) Детройт, Турин; 3) Осло, Хельсинки; 4) София, Будапешт. 15
20. Соотнесите город – климатический пояс, в котором он расположен:

1) Джакарта	А. тропический
2) Мехико	Б. экваториальный
3) Мадрид	В. субарктический
4) Москва	Г. умеренный
5) Мурманск	Д. субтропический

50

Аналитический тур

Задание № 2. Страна X имеет сухопутную границу с несколькими другими. В таблице приведены сведения о трёх непосредственных соседях. Определите этих соседей и X (названия стран запишите на листе ответов в следующей форме: 1-й сосед - ..., 2-й сосед - ... и т.д.).

1-й сосед	Самый крупный по объёму валового внутреннего продукта член Европейского Союза	ФРГ 15
2-й сосед	Официальный язык относится к финно-угорской языковой группе	Венгрия 10
3-й сосед	Здесь базируется автомобилестроительная компания «ФИАТ» Fiat	Италия 05
Страна X		Австрия 20 (45)

Задание № 3. Распределите ниже перечисленные слова попарно, определите принцип составления пар и запишите его: изобаты, озы, барометр, половодье, ордовик, платформа, бора, флюгер, неоген, изогипсы, рифтовая долина, друмлины, хамсин, межень.

Задание № 4. Исключите одно лишнее определение из предложенного списка

- Германия: рейхстаг, гастарбайтер, евро, Опель, пиво, Висла. 15
- Франция: кинофестиваль, Пежо, сыр, АЭС, духи, вольнка, шампанское, шоколад. 15
- Швеция: лыжи, бумага, туризм, рыба, часы, Вольво, шоколад. 05
- Бельгия: сыр, пиво, бриллианты, Амстердам, НАТО, фламандский. 15
- Швейцария: лыжи, банк, часы, сыр, шоколад, лекарство, франк, бумага. 15
- Венгрия: Балатон, обувь, туризм, вино, индуизм, Икарус, бокситы. 15
- Монако: марки, магнолии, курорт, лес, туризм, казино, карты. 15
- Греция: шубы, уголь, туризм, оливки, лимон, Средиземное море. 15

Задание № 5. Определите страны по их структуре показанной в таблице. Объясните высокую долю производства электроэнергии на АЭС в стране Д. (США, Китай, Япония, Россия, Вьетнам, Норвегия, Франция, Индия, Эфиопия)

Страна	Объём производства электрической энергии в 2007 г., млрд. кВт·ч	Доля производства электрической энергии, %				Структура ВВП, %		
		ТЭС	ГЭС	АЭС	другие	сельское хозяйство	промышленность	услуги
А	665,3	81,7	14,6	3,4	0,3	17,6	29,0	53,4
Б	3271	80,2	18,5	1,2	0,1	11,3	48,6	40,1
В	1016	64,3	20,5	14,8	0,1	4,7	37,6	57,7
Г	4167	71,4	5,6	20,7	2,3	1,2	19,2	79,6
Д	1195	60,0	8,4	29,8	1,8	1,4	26,3	72,3

Задание № 6. Установите соответствие «государственный герб - государство»:



1

А) Австрия




2-Д

Б) Чехия




3

В) Венгрия



4

Г) Таджикистан



5

Д) Украина

338. max 57
Губовиченко Н.

Всего баллов 50
Время 1 ч 15 мин

Всероссийская олимпиада школьников по географии. Школьный этап. 10-11 класс. 2016-17 учебный год

(Задания выполняются без использования атласов, справочников, словарей и др.)
Задание № 1. Тестовый этап (за правильный ответ 1 балл)

1. На границе какого государства и региона России находится крайняя южная точка страны:
1) Грузия – Республика Карачаево-Черкесия; 3) Монголия – Республика Тува; 15
2) Азербайджан – Республика Дагестан; 4) Северная Корея – Приморский край?
2. Отметьте религию, которой придерживаются народы финно-угорской группы:
1) буддизм; 2) иудаизм; 3) ислам; 4) православие. 1.5
3. Для окружающей природы наиболее опасны предприятия:
1) легкой промышленности; 3) автомобилестроения; 15
2) цветной металлургии; 4) пищевой промышленности.
4. Мировой «полюс холода» находится:
1) Оймякон 2) южный полюс 3) станция Восток 4) северный полюс 15
5. Укажите ошибку в перечне главных грузопотоков газа:
1) Россия – Европа; 2) Алжир – Западная Европа; 3) ЮАР – Япония; 4) Канада – США. 15
6. Какой регион России в наибольшей степени пострадал от аварии на Чернобыльской АЭС:
1) Брянская область; 2) Воронежская; 3) Смоленская область; 4) Орловская область 0.5
7. Материк, на котором отсутствует область новой складчатости:
1) Антарктида 2) Африка 3) Южная Америка 4) Австралия 0.5
8. Выделите страну с самой высокой долей городского населения среди перечисленных:
1) Великобритания; 2) Китай; 3) Россия; 4) Испания. 0.5
9. Самая плотно населенная аграрная страна в мире – это:
1) Бельгия; 2) Нидерланды; 3) Бангладеш; 4) Япония. 1.5
10. В каком регионе России наиболее остро стоит проблема водоснабжения:
1) Московская обл.; 2) Средний и Южный Урал; 3) Красноярский край; 4) Архангельская обл. 0.5
11. Какое из предложенных названий природной зоны в данном списке лишнее:
1) саванна 2) прерия 3) сельва 4) степь 1.5
12. Вспомните экономический район, в котором больше всего республик в составе РФ, и найдите единственную страну, с которой он граничит:
1) Китай; 2) Монголия; 3) Казахстан; 4) Грузия. 0.5
13. Укажите ошибку в составе «Большой семерки»:
1) США; 2) Япония; 3) Испания; 4) Великобритания; 5) Германия; 6) Франция; 7) Италия; 8) Канада. 1.5
14. Если 4 см на карте соответствуют расстоянию на местности, равному 2 км, то численный масштаб этой карты:
1) 1:5000 2) 1:5000000 3) 1:500000 4) 1:50000 1.5
или $\frac{2000}{4} = 50000$
15. Выберите вариант ответа, в котором представлены две страны, одновременно входящие в число семи самых крупных по территории и десяти самых крупных по численности населения:
1) Китай и Индонезия; 2) Австралия и Бангладеш; 3) Бразилия и Нигерия; 4) Китай и Бразилия. 1.5
16. Найдите единственную страну, в которой минимальны предпосылки для межрелигиозных или межэтнических конфликтов:
1) Великобритания; 2) Индия; 3) Япония; 4) Канада. 1.5
17. Какая электростанция из предложенного списка имеет самую большую мощность и не использует минеральное топливо:
1) Курская; 2) Саяно-Шушенская; 3) Костромская; 4) Билибинская. 0.5
18. Какая страна производит дешевую электроэнергию, экспортирует нефть и газ:
1) США; 2) Германия; 3) Норвегия; 4) Бразилия? 1.5
19. Выберите пару городов – центров автомобилестроения:
1) Манчестер, Глазго; 2) Детройт, Турин; 3) Осло, Хельсинки; 4) София, Будапешт. 1.5
20. Соотнесите город – климатический пояс, в котором он расположен:
1) Джакарта Б А. тропический
2) Мехико А Б. экваториальный
3) Мадрид В В. субарктический
4) Москва Г Г. умеренный
5) Мурманск Д Д. субтропический

55

Аналитический тур

Задание № 2. Страна X имеет сухопутную границу с несколькими другими. В таблице приведены сведения о трёх непосредственных соседях. Определите этих соседей и X (названия стран запишите на листе ответов в следующей форме: 1-й сосед - ..., 2-й сосед - ... и т.д.).

1-й сосед	Самый крупный по объёму валового внутреннего продукта член Европейского Союза	
2-й сосед	Официальный язык относится к финно-угорской языковой группе	10
3-й сосед	Здесь базируется автомобилестроительная компания «ФИАТ»	10
Страна X		

Задание № 3. Распределите ниже перечисленные слова попарно, определите принцип составления пар и запишите его: **изобаты, озы, барометр, половодье, ордовик, платформа, бора, флюгер, неоген, изогипсы, рифтовая долина, друмлины, хамсин, межень.**

Задание № 4. Исключите одно лишнее определение из предложенного списка

1. **Германия:** рейхстаг, гастарбайтер, евро, Опель, пиво, Висла. 10
2. **Франция:** кинофестиваль, Пежо, сыр, АЭС, духи, вольнка, шампанское, шоколад. 10
3. **Швеция:** лыжи, бумага, туризм, рыба, часы, Вольво, шоколад. 10
4. **Бельгия:** сыр, пиво, бриллианты, Амстердам, НАТО, фламандский. 10
5. **Швейцария:** лыжи, банк, часы, сыр, шоколад, лекарство, франк, бумага. 10
6. **Венгрия:** Балатон, обувь, туризм, вино, индуизм, Икарус, бокситы. 10
7. **Монако:** марки, магнолии, курорт, лес, туризм, казино, карты. 10
8. **Греция:** шубы, уголь, туризм, оливки, лимон, Средиземное море. 10

Задание № 5. Определите страны по их структуре показанной в таблице. Объясните высокую долю производства электроэнергии на АЭС в стране Д. (**США, Китай, Япония, Россия, Вьетнам, Норвегия, Франция, Индия, Эфиопия**)

Страна	Объем производства электрической энергии в 2007 г., млрд. кВт·ч	Доля производства электрической энергии, %				Структура ВВП, %		
		ТЭС	ГЭС	АЭС	другие	сельское хозяйство	промышленность	услуги
А <i>Индия</i> 10	665,3	81,7	14,6	3,4	0,3	17,6	29,0	53,4
Б <i>Китай</i> 10	3271	80,2	18,5	1,2	0,1	11,3	48,6	40,1
В <i>Россия</i> 10	1016	64,3	20,5	14,8	0,1	4,7	37,6	57,7
Г <i>США</i> 10	4167	71,4	5,6	20,7	2,3	1,2	19,2	79,6
Д <i>Япония</i> 10	1195	60,0	8,4	29,8	1,8	1,4	26,3	72,3

Задание № 6. Установите соответствие «государственный герб - государство»:



1

А) Австрия




2

Б) Чехия




3

В) Венгрия



4

Г) Таджикистан



5

Д) Украина

20

Всероссийская олимпиада школьников по географии.
Школьный этап. 10-11 класс. 2016-17 учебный год

Учебник
11 класс
336
max 57

(Задания выполняются без использования атласов, справочников, словарей и др.)

Задание № 1. Тестовый этап (за правильный ответ 1 балл)

1. На границе какого государства и региона России находится крайняя южная точка страны:

- 1) Грузия – Республика Карачаево-Черкесия; 3) Монголия – Республика Тува;
2) Азербайджан – Республика Дагестан; 4) Северная Корея – Приморский край?

2. Отметьте религию, которой придерживаются народы финно-угорской группы:

- 1) буддизм; 2) иудаизм; 3) ислам; 4) православие.

3. Для окружающей природы наиболее опасны предприятия:

- 1) легкой промышленности; 3) автомобилестроения;
2) цветной металлургии; 4) пищевой промышленности.

4. Мировой «полюс холода» находится:

- 1) Оймякон 2) южный полюс 3) станция Восток 4) северный полюс

5. Укажите ошибку в перечне главных грузопотоков газа:

- 1) Россия – Европа; 2) Алжир – Западная Европа; 3) ЮАР – Япония; 4) Канада – США. 15

6. Какой регион России в наибольшей степени пострадал от аварии на Чернобыльской АЭС:

- 1) Брянская область; 2) Воронежская; 3) Смоленская область; 4) Орловская область

7. Материк, на котором отсутствует область новой складчатости:

- 1) Антарктида 2) Африка 3) Южная Америка 4) Австралия

8. Выделите страну с самой высокой долей городского населения среди перечисленных:

- 1) Великобритания; 2) Китай; 3) Россия; 4) Испания. 15

9. Самая плотно населенная аграрная страна в мире – это:

- 1) Бельгия; 2) Нидерланды; 3) Бангладеш; 4) Япония.

10. В каком регионе России наиболее остро стоит проблема водоснабжения:

- 1) Московская обл.; 2) Средний и Южный Урал; 3) Красноярский край; 4) Архангельская обл.

11. Какое из предложенных названий природной зоны в данном списке лишнее:

- 1) саванна 2) прерия 3) сельва 4) степь

12. Вспомните экономический район, в котором больше всего республик в составе РФ, и найдите единственную страну, с которой он граничит:

- 1) Китай; 2) Монголия; 3) Казахстан; 4) Грузия.

13. Укажите ошибку в составе «Большой семерки»:

- 1) США; 3) Испания; 5) Германия; 7) Италия;
2) Япония; 4) Великобритания; 6) Франция; 8) Канада. 15

14. Если 4 см на карте соответствуют расстоянию на местности, равному 2 км, то численный масштаб этой карты:

- 1) 1:5000 2) 1:5000000 3) 1:500000 4) 1:50000 15

15. Выберите вариант ответа, в котором представлены две страны, одновременно входящие в число семи самых крупных по территории и десяти самых крупных по численности населения:

- 1) Китай и Индонезия; 2) Австралия и Бангладеш; 3) Бразилия и Нигерия; 4) Китай и Бразилия. 15

16. Найдите единственную страну, в которой минимальны предпосылки для межрелигиозных или межэтнических конфликтов:

- 1) Великобритания; 2) Индия; 3) Япония; 4) Канада. 15

17. Какая электростанция из предложенного списка имеет самую большую мощность и не использует минеральное топливо:

- 1) Курская; 2) Саяно-Шушенская; 3) Костромская; 4) Билибинская. 15

18. Какая страна производит дешевую электроэнергию, экспортирует нефть и газ:

- 1) США; 2) Германия; 3) Норвегия; 4) Бразилия? 0

19. Выберите пару городов – центров автомобилестроения:

- 1) Манчестер, Глазго; 2) Детройт, Турин; 3) Осло, Хельсинки; 4) София, Будапешт. 15

20. Соотнесите город – климатический пояс, в котором он расположен:

- | | |
|------------------|-------------------|
| А) 1) Джакарта | А. тропический |
| Б) 2) Мехико | Б. экваториальный |
| В) 3) Мадрид + | В. субарктический |
| Г) 4) Москва + | Г. умеренный |
| Д) 5) Мурманск + | Д. субтропический |
- 35

Аналитический тур

Задание № 2. Страна X имеет сухопутную границу с несколькими другими. В таблице приведены сведения о трёх непосредственных соседях. Определите этих соседей и X (названия стран запишите на листе ответов в следующей форме: 1-й сосед - ..., 2-й сосед - ... и т.д.).

1-й сосед	Самый крупный по объёму валового внутреннего продукта член Европейского Союза	Германия 0
2-й сосед	Официальный язык относится к финно-угорской языковой группе	Венгрия 10
3-й сосед	Здесь базируется автомобилестроительная компания «ФИАТ»	Италия 10
Страна X		Австрия 10

30

Задание № 3. Распределите ниже перечисленные слова попарно, определите принцип составления пар и запишите его: ⁷изобаты, ⁵озы, ⁴барометр, ¹половодье, ¹ордовик, ³платформа, ⁶бора, ²флюгер, ⁴неоген, ⁴изогипсы, ⁶рифтовая долина, ⁵друмлины, ²хамсин, ¹межень.

1 - речная река 10
 2 - ветряк 10
 3 - часть земной коры 10
 4 - метеорологический прибор 10
 5 - работа ледников 10
 6 - тектоническая граница 10
 7 - условное название на карте с одинаковой величиной 10

Задание № 4. Исключите одно лишнее определение из предложенного списка

1. **Германия:** рейхстаг, гастарбайтер, евро, Опель, пиво, Висла. 0
2. **Франция:** кинофестиваль, Пежо, сыр, АЭС, духи, волынка, шампанское, шоколад. 10
3. **Швеция:** лыжи, бумага, туризм, рыба, часы, Вольво, шоколад. 10
4. **Бельгия:** сыр, пиво, бриллианты, Амстердам, НАТО, фламандский. 0
5. **Швейцария:** лыжи, банк, часы, сыр, шоколад, лекарство, франк, бумага. 10
6. **Венгрия:** Балатон, обувь, туризм, вино, индуизм, Икарус, бокситы. 10
7. **Монако:** марки, магнолии, курорт, лес, туризм, казино, карты. 10
8. **Греция:** шубы, уголь, туризм, оливки, лимон, Средиземное море. 10

50

Задание № 5. Определите страны по их структуре показанной в таблице. Объясните высокую долю производства электроэнергии на АЭС в стране Д. (США, Китай, Япония, Россия, Вьетнам, Норвегия, Франция, Индия, Эфиопия)

Страна	Объем производства электрической энергии в 2007 г., млрд. кВт·ч	Доля производства электрической энергии, %				Структура ВВП, %		
		ТЭС	ГЭС	АЭС	другие	сельское хозяйство	промышленность	услуги
А	Индия 665,3 10	81,7	14,6	3,4	0,3	17,6	29,0	53,4
Б	Китай 3271 10	80,2	18,5	1,2	0,1	11,3	48,6	40,1
В	Россия 1016 10	64,3	20,5	14,8	0,1	4,7	37,6	57,7
Г	США 4167 10	71,4	5,6	20,7	2,3	1,2	19,2	79,6
Д	Япония 1195 10	60,0	8,4	29,8	1,8	1,4	26,3	72,3

50

Задание № 6. Установите соответствие «государственный герб - государство»:




1




2



3



4



5

А) Австрия

4 0

Б) Чехия

5 10

В) Венгрия

3 0

Г) Таджикистан

1 10

Д) Украина

2 10

30